


Per ognuna delle seguenti affermazioni o domande, indica con una **X** il completamento o la risposta corretta.

1 Osserva. Rispetto al quadratino azzurro quello blu si trova

- A in basso a sinistra.
- B in basso a destra.
- C a destra.



2 In tutte le carte geografiche il nord si trova

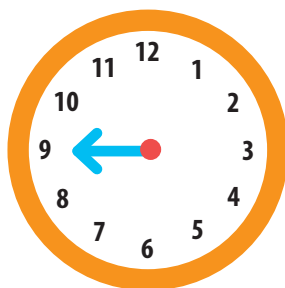
- A in basso.
- B a destra.
- C in alto.

3 Il punto dove sorge il Sole è

- A il nord.
- B il sud.
- C l'est.

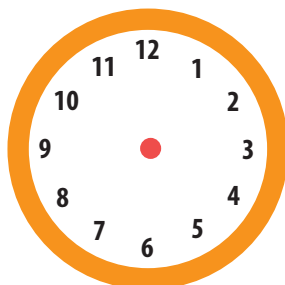
4 Se nell'orologio la lancetta delle ore segna le 9, a quale punto cardinale corrisponde sulla bussola?

- A Est.
- B Ovest.
- C Sud.



5 Un punto posto tra sud e ovest a che ora potrebbe corrispondere sull'orologio?

- A Alle 8.
- B Alle 4.
- C Alle 11.



6 Perché si dice che una carta geografica è approssimata?

- A Perché non si può rappresentare uno spazio che, nella realtà, è troppo grande.
- B Perché non si possono disegnare gli elementi del paesaggio così come sono nella realtà.
- C Perché non si può rappresentare fedelmente sul piano ciò che ha una forma sferica.

7 In una carta geografica con scala 1:100, un centimetro a che cosa corrisponde nella realtà?

- A A 100 metri.
- B A 100 chilometri.
- C A 100 centimetri.

8 Nella legenda delle carte fisiche si può incontrare questa scala cromatica.



Che cosa indica il blu più scuro?

- A Mare poco profondo.
- B Mare abbastanza profondo.
- C Mare molto profondo.

9 Che cosa indica questo simbolo?

- A Una chiesa.
- B Una farmacia.
- C Un ospedale.



10 Che cosa trovi scritto accanto a questo simbolo ▲?

- A Il nome e l'altezza di un monte.
- B Il nome e la lunghezza di una galleria.
- C Il punto in cui nasce un fiume.

11 Quando visiti una nuova città ti serve saper leggere

- A la mappa della città.
- B la bussola.
- C i segnali stradali.

12 Quale argomento tratta questa carta tematica?

- A La produzione agricola italiana.
- B La produzione industriale italiana.
- C La distribuzione dell'allevamento in Italia.



13 La maggior parte dei rilievi si è originata in seguito

- A all'accumulo di detriti trasportati dai fiumi.
- B al sollevamento della crosta terrestre.
- C all'erosione della crosta terrestre.

14 Quale elemento naturale non si può incontrare in montagna?

- A Cima innevata.
- B Prato fiorito.
- C Grotta marina.

15 Come si riconoscono le montagne più giovani?

- A Hanno la cima arrotondata.
- B Sono poco elevate.
- C Hanno la cima scoscesa e appuntita.

16 Perché in collina si realizzano i terrazzamenti?

- A Per ottenere terreni più comodi da raggiungere.
- B Per ottenere terreni più facili da coltivare.
- C Per ottenere terreni più ordinati.

17 In quale ambiente ti trovi se sei circondato da castagni?

- A Alta montagna.
- B Alta pianura.
- C Mezza collina.

18 Che cosa **NON** si ottiene dall'allevamento di bovini?

- A Formaggi.
- B Prosciutti.
- C Cuoio.

19 Perché i fianchi delle colline sono i più adatti alla coltivazione dei vigneti?

- A Perché irrigando le piante poste più in alto, l'acqua scende verso le piante situate più in basso.
- B È più comoda la raccolta dei grappoli.
- C Perché tutti i grappoli ricevono la luce e il calore del Sole.

20 Quale vantaggio **NON** offre la pianura?

- A Comode vie di comunicazione.
- B Abitazioni panoramiche.
- C Ampi terreni da coltivare.

21 Passeggiando per la città osservi antichi palazzi con torri e belle chiese con campanili. Dove ti trovi?

- A Nel centro storico.
- B In un quartiere periferico.
- C Nella zona commerciale.

22 In quale ambiente sono nati i primi villaggi preistorici?

- A Lungo le coste.
- B Sulle alture montuose.
- C Vicino ai fiumi.

23 Il fiume che esce da un lago si chiama

- A immissario.
- B emissario.
- C affluente.

24 Dove potresti pescare una trota?

- A In un ruscello.
- B In una palude.
- C In una baia marina.



25 Quale animale **NON** vive nei fiumi e nei laghi italiani?

- A Luccio.
- B Topo muschiato.
- C Castoro.

26 Questi animali abitano le paludi e, in genere, le acque ferme. Quale di essi non vive in Italia?

- A Rospo.
- B Coccodrillo.
- C Airone.

27 Quale elemento artificiale **NON** si può incontrare al mare?

- A Uno stabilimento balneare.
- B Una sciovia.
- C Una banchina portuale.

28 Che cos'è la macchia mediterranea?

- A Una spiaggia.
- B Un tipo di vegetazione.
- C Un paesaggio sporco.

29 Un pescatore ha appena pescato un tonno e tu sei in barca con lui. Ti trovi

- A al lago.
- B al fiume.
- C al mare.

30 Quale tipo di turismo trovi a Rimini?

- A Turismo invernale.
- B Turismo balneare.
- C Turismo montano.

31 Una di queste industrie immaginarie non è situata vicino al porto. Quale?

- A La Tonnobon: industria conserviera (tonno, acciughe...).
- B La Petroil: raffineria (benzina, nafta...).
- C La Alpilat: caseificio (yogurt, formaggi...).

